























Phép cộng đến 5 (hình ảnh)

Tên: _____

Ngày tháng: _____ Điểm: _____





















 1	+	 1	=	
 2	+	 1	=	
 3	+	 2	=	
 1	+	 3	=	
 2	+	 1	=	
 2	+	 3	=	
 3	+	 2	=	
 1	+	 2	=	
 2	+	 1	=	
 1	+	 3	=	



Phép cộng đến 5 (hình ảnh)

Tên: _____

Ngày tháng: _____ Điểm: _____

 1	+	 1	=	2
 2	+	 1	=	3
 3	+	 2	=	5
 1	+	 3	=	4
 2	+	 1	=	3
 2	+	 3	=	5
 3	+	 2	=	5
 1	+	 2	=	3
 2	+	 1	=	3
 1	+	 3	=	4