























Phép cộng đến 5(hình ảnh)

Tên: _____

Ngày tháng: _____ Điểm: _____


















 3	+	 1	=	
 2	+	 3	=	
 1	+	 2	=	
 1	+	 3	=	
 3	+	 2	=	
 1	+	 4	=	
 3	+	 2	=	
 1	+	 3	=	
 3	+	 2	=	
 1	+	 3	=	



Phép cộng đến 5(hình ảnh)

Tên: _____

Ngày tháng: _____ Điểm: _____

 3	+	 1	=	4
 2	+	 3	=	5
 1	+	 2	=	3
 1	+	 3	=	4
 3	+	 2	=	5
 1	+	 4	=	5
 3	+	 2	=	5
 1	+	 3	=	4
 3	+	 2	=	5
 1	+	 3	=	4