























Phép cộng đến 10(hình ảnh)

Tên: _____

Ngày tháng: _____ Điểm: _____





















 3	+	 5	=	
 1	+	 5	=	
 4	+	 1	=	
 8	+	 2	=	
 7	+	 3	=	
 4	+	 2	=	
 2	+	 8	=	
 4	+	 5	=	
 3	+	 3	=	
 5	+	 4	=	



Phép cộng đến 10(hình ảnh)

Tên: _____

Ngày tháng: _____ Điểm: _____

 3	+	 5	=	8
 1	+	 5	=	6
 4	+	 1	=	5
 8	+	 2	=	10
 7	+	 3	=	10
 4	+	 2	=	6
 2	+	 8	=	10
 4	+	 5	=	9
 3	+	 3	=	6
 5	+	 4	=	9