




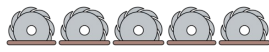









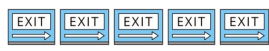








Phép cộng đến 10(hình ảnh)

Tên: _____

Ngày tháng: _____ Điểm: _____





















 1	+	 1	=	
 7	+	 2	=	
 3	+	 5	=	
 1	+	 5	=	
 3	+	 4	=	
 4	+	 2	=	
 2	+	 4	=	
 5	+	 5	=	
 3	+	 6	=	
 3	+	 7	=	



Phép cộng đến 10(hình ảnh)

Tên: _____

Ngày tháng: _____ Điểm: _____

 1	+	 1	=	2
 7	+	 2	=	9
 3	+	 5	=	8
 1	+	 5	=	6
 3	+	 4	=	7
 4	+	 2	=	6
 2	+	 4	=	6
 5	+	 5	=	10
 3	+	 6	=	9
 3	+	 7	=	10