



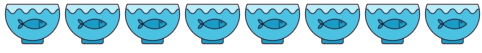

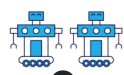
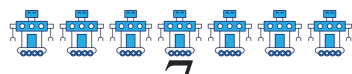
















Phép cộng đến 10(hình ảnh)

Tên: _____

Ngày tháng: _____ Điểm: _____





















 4	+	 6	=	
 2	+	 1	=	
 8	+	 1	=	
 2	+	 7	=	
 3	+	 1	=	
 6	+	 3	=	
 1	+	 5	=	
 2	+	 6	=	
 1	+	 6	=	
 7	+	 2	=	



Phép cộng đến 10(hình ảnh)

Tên: _____

Ngày tháng: _____ Điểm: _____

 4	+	 6	=	10
 2	+	 1	=	3
 8	+	 1	=	9
 2	+	 7	=	9
 3	+	 1	=	4
 6	+	 3	=	9
 1	+	 5	=	6
 2	+	 6	=	8
 1	+	 6	=	7
 7	+	 2	=	9