






















Phép cộng đến 10(hình ảnh)

Tên: _____

Ngày tháng: _____ Điểm: _____





















 4	+	 1	=	
 6	+	 1	=	
 2	+	 2	=	
 2	+	 1	=	
 7	+	 1	=	
 3	+	 2	=	
 6	+	 2	=	
 3	+	 1	=	
 3	+	 4	=	
 1	+	 8	=	



Phép cộng đến 10(hình ảnh)

Tên: _____

Ngày tháng: _____ Điểm: _____

 4	+	 1	=	5
 6	+	 1	=	7
 2	+	 2	=	4
 2	+	 1	=	3
 7	+	 1	=	8
 3	+	 2	=	5
 6	+	 2	=	8
 3	+	 1	=	4
 3	+	 4	=	7
 1	+	 8	=	9