























Phép cộng đến 10(hình ảnh)

Tên: _____

Ngày tháng: _____ Điểm: _____









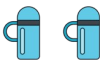











 6	+	 2	=	
 5	+	 4	=	
 7	+	 1	=	
 6	+	 3	=	
 2	+	 7	=	
 6	+	 1	=	
 1	+	 5	=	
 5	+	 1	=	
 5	+	 3	=	
 7	+	 2	=	



Phép cộng đến 10(hình ảnh)

Tên: _____

Ngày tháng: _____ Điểm: _____

 6	+	 2	=	8
 5	+	 4	=	9
 7	+	 1	=	8
 6	+	 3	=	9
 2	+	 7	=	9
 6	+	 1	=	7
 1	+	 5	=	6
 5	+	 1	=	6
 5	+	 3	=	8
 7	+	 2	=	9