



1から20までの数を数える

名前: _____

日にち: _____ スコア: _____

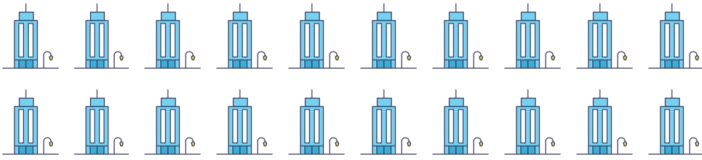




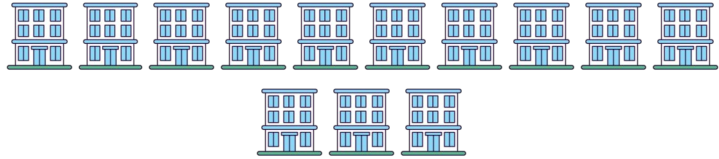




| | | |
|--|-----------|--|
| | <p>==</p> | |
| | <p>==</p> | |
| | <p>==</p> | |
| | <p>==</p> | |
| | <p>==</p> | |
| | <p>==</p> | |
| | <p>==</p> | |
| | <p>==</p> | |
| | <p>==</p> | |
| | <p>==</p> | |



1から20までの数を数える

名前: _____

日にち: _____ スコア: _____

| | | |
|--|---|----|
|  | = | 20 |
|  | = | 5 |
|  | = | 9 |
|  | = | 15 |
|  | = | 10 |
|  | = | 13 |
|  | = | 3 |
|  | = | 6 |
|  | = | 8 |
|  | = | 2 |